

Klasa 5 – I tydzień

Lekcja 1

Temat: Rodzaje kątów.

Przepisz do zeszytu:

Kąty: prosty, półpełny i pełny

Kąt, którego ramiona są prostopadłe, to **kąt prosty**.
Kąt prosty oznaczamy łukiem z kropką.



Dwa kąty proste ułożone tak jak na rysunku poniżej tworzą **kąt półpełny**.
Jedno z ramion kąta półpełnego jest przedłużeniem drugiego ramienia tego kąta.

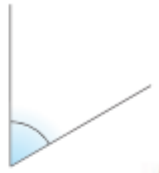


Cztery kąty proste ułożone tak jak na rysunku poniżej tworzą **kąt pełny**.

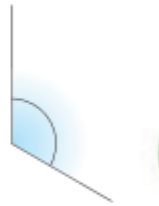


Kąty: ostre, rozwarte i wklęsłe

Kąty mniejsze od kąta prostego to **kąty ostre**.



Kąty większe od kąta prostego, ale mniejsze od kąta półpełnego, to **kąty rozwarte**.



Kąty większe od kąta półpełnego, ale mniejsze od kąta pełnego, to **kąty wklęsłe**.



Zrób zadanie 2,3,4 i 5 strona 83 z naszego podręcznika.

Lekcja 2

Temat: Kąty przyległe i wierzchołkowe.

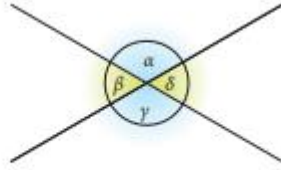
Przepisz do zeszytu:

Kąty przyległe



Kąty α i β na rysunku powyżej tworzą kąt półpełny. Podobnie kąty γ i δ . Tak położone kąty nazywamy **kątami przyległymi**.

Kąty wierzchołkowe



Kąty α i γ są równe. Tak położone kąty między dwiema prostymi nazywamy **kątami wierzchołkowymi**.

Zrób zadania: 15,16,17 strona 86

Lekcja 3

Temat: Rodzaje kątów - zadania.

Zrób zadania z "Czy już umiem?" - strona 87

✓ Czy już umiem?

I Zapisz nazwy kątów przedstawionych na rysunkach. Następnie określ, jakiego rodzaju kątem jest każdy z nich.

II Uporządkuj kąty od najmniejszego do największego. Zapisz w odpowiedniej kolejności ich nazwy.

III Który kąt jest przyległy do kąta β ?

Sposób sprawdzenia waszej pracy uzgodnicie z panią Anną Grzelec.

Miłej pracy.....