

Drogie Dzieci!!!

Dzisiejsze zajęcia możecie zrobić samodzielnie (bez pomocy Rodziców), pomoże Wam w tym strona

https://www.youtube.com/watch?v=Zmt2_mVQwvc

ZADANIA NA PONIEDZIAŁEK (08.06.)

Język polski

Strach ma wielkie oczy

1. Przeczytajcie opowiadanie "Strach ma wielkie oczy" Zofii Staneckiej z podręcznika str. 92 - 93.
2. Następnie odpowiedzcie ustnie na pytania w ćwiczeniu 1 str. 93.
3. Wykonajcie ćwiczenia 1, 2, 3, 4 w ćwiczeniówce str. 83.
W ćwicz. 4 do zeszytu przepiszcie:

Dobrze, że pojechaliliśmy gdzieś razem. Dzięki temu wiele się nauczyliśmy. Na przykład tego, jak przełamywać strach przed nieznanym.

4. Następnie wykonajcie ćwicz. 5 i 6 str 84 w ćwiczeniówce. (w ćwicz. 5 rymowanka dla osób chętnych)

Matematyka

Powtarzam wiadomości o figurach geometrycznych

Na tej stronie sprawdzicie czy wszystkie zadania zrobiliście poprawnie
<https://www.youtube.com/watch?v=W4ol0h6Bloc>

1. Wykonajcie ustnie zadania nr 1, 2, 3, 4, 5, 6, 7 z podręcznika str. 88, 89.
2. Następnie wykonaj zad. 1 i 2 w ćwiczeniówce na str. 79.

ZADANIA NA WTOREK (09.06.)

Dzisiejsze zajęcia możecie zrobić samodzielnie (bez pomocy Rodziców), pomoże Wam w tym strona

<https://www.youtube.com/watch?v=PdY2UFyvoBM>

Język polski

Najlepsi pływacy

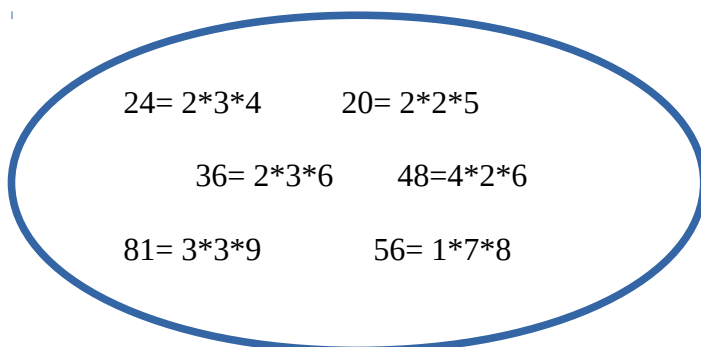
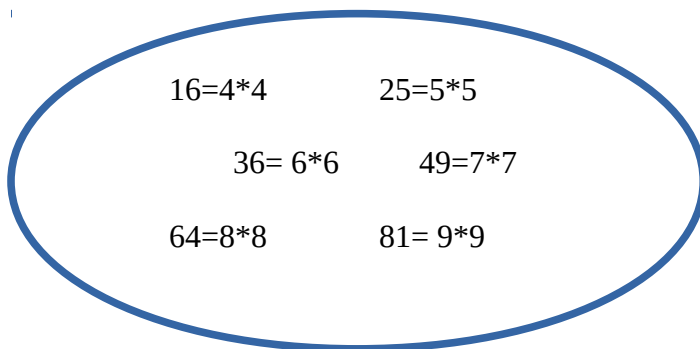
1. Przeczytajcie informacje i obejrzyjcie ilustracje na str. 94, 95 w podręczniku.

- Następnie odpowiedzcie ustnie na pytania w ćwicz. 1, 2, 3, 4 na str. 94 i 95 w podręczniku.
- Zróbcie zadanie nr 1, 2, 3 str. 85 oraz 4 i 5 str. 86 w ćwiczeniówce.

Matematyka

Rozwiązuję trudniejsze zadania

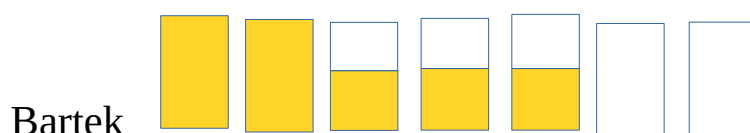
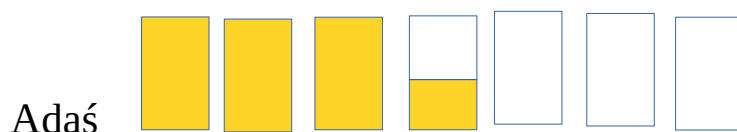
- Wykonajcie w zeszyte zad. 1 str. 90 według podanego wzoru.



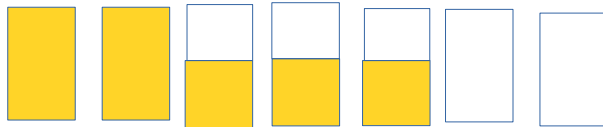
- Wykonajcie **ustnie** zadania nr 2,3,4, 5 z podręcznika str. 90.

Podpowiedź do zad. 2

Wszystkich butelek jest 21, a więc każdy chłopiec musi mieć ich po 7 i po tyle samo soku.



Czarek



Podpowiedź do zad. 3

Spójrz między niebieskimi strzałkami jest biały prostokąt, wystarczy dorysować dwa odcinki żeby powstał grot strzałki.

Podpowiedź do zad. 4

Powinniście znaleźć 10 kwadratów

Podpowiedź do zad. 5

Zacznijcie od obliczenia ile waży piżmak, później, ile waży wydra, a na końcu obliczcie, ile waży bóbr.

2. Wykonajcie zadania 1, 2, 3 str. 80 z ćwiczeniówki

Podpowiedź do zad. 1

Jeśli Ola przeczytała o 8 stron mniej od Hani to np.

Ola przeczytała 10 stron a Hania 18.

Drugiego dnia Ola 25, a Hania 15 stron.

Ola: $10 + 25 = 35$

Hania: $18 + 15 = 33$

Odp. W ciągu dwóch dni Ola przeczytała więcej stron.

Podpowiedź do zad. 2

+1 +2 +3 +4 +5

1	2	4	7	11										
---	---	---	---	----	--	--	--	--	--	--	--	--	--	--

Liczby w okienkach rosną o 1, 2, 3, 4, 5, 6, itd.

x2 -1 x2 -2 x2 -3 x2 -4 x2 -5

2	4	3	6	4	8									
---	---	---	---	---	---	--	--	--	--	--	--	--	--	--

Liczby na przemian rosną x2 i maleją - 1, -2, -3 itd.

1	1	2	3	5	8	13								
---	---	---	---	---	---	----	--	--	--	--	--	--	--	--

Liczby rosną o sumę dwóch sąsiednich liczb, np: $1+1=2$, $1+2=3$, $2+3=5$, $3+5=8$, $5+8=13$, $8+13=21$, $13+21=34$, $21+34=55$, $34+55=89$.

ZADANIA NA ŚRODĘ (10.06.)

Gry terenowe

1. Przeczytajcie e- mail z podręcznika str. 96
2. Odszukajcie w nim wakacyjne życzenia i przepiszcie do zeszytu.

Niech wakacje będą dla Was czasem wypoczynku i zabawy. Życzymy Wam wspaniałych przygód i dobrego humoru. Niech Was omijają wszelkie przykre zdarzenia.

3. Przeczytajcie wpis ze szkolnej kroniki z podręcznika str. 97.
4. Wykonajcie ćwiczenie 1, 2, 3, 4, 5 str. 87, 88 w ćwiczeniówce.

Podpowiedź do ćwic. 1

Kreski wskazują na miejsce w tabelce, a kropka pierwszą lub drugą literę, np.

Pierwszą literę znajdziemy w tabelce, gdzie jest GH, kropka wskazuje na pierwszą literę czyli G

Drugą literę znajdziemy, gdzie jest RS, kropka wskazuje pierwszą literę czyli R

Trzecią literę znajdziemy w przeciętych liniach i jest to litera Y

Czwartą literę znajdziemy, gdzie jest IJ, kropka wskazuje na pierwszą literę czyli I itd.

Podpowiedź do ćwic. 2

Przykładowe tytuły:

zdania:

Jacek wspina się na ściance.

Dzieci ścigają się w workach.

Dziewczynki idą po pniu drzewa.

lub równoważnik zdania:

Wspinanie na ściance.

Wyścigi w workach.

Przejsście po pniu drzewa.

Matematyka

Sprawdzam swoje umiejętności

1. Wykonajcie **ustnie** zadania 1, 2, 3, 4, 5 str. 91 z podręcznika.
2. Zróbcie zadania nr 1 i 2 w ćwiczeniówce str. 81.